


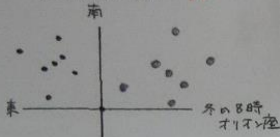
2018年ふし絵描きコンテスト 小2~小3の部

氏名 栗原智悠 学年 2年12月20日 2018年ふし絵描きコンテスト

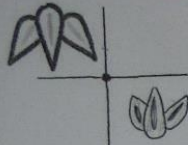
1 顔の所にかがみをおくと
どんな絵になりますか AB




2 星を甲心に若に90度回転すると
どんな絵になりますか A



3 星を甲心に若に180度回転すると
どんな絵になりますか A




4 顔の所にかがみをおくと
どんな絵になりますか B




5 顔の所にかがみをおくと
どんな絵になりますか AB



6 星を甲心に若に180度回転すると
どんな絵になりますか A



6 顔の所にかがみをおくと
どんな絵になりますか (ミシロ) AB




氏名 329370 学年 3年12月20日 2018年ふし絵描きコンテスト


1 顔の所にかがみをおくと
どんな絵になりますか AB




2 星を甲心に若に90度回転すると
どんな絵になりますか A




3 星を甲心に若に180度回転すると
どんな絵になりますか




4 顔の所にかがみをおくと
どんな絵になりますか B



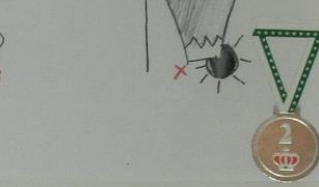
5 顔の所にかがみをおくと
どんな絵になりますか AB



6 星を甲心に若に180度回転すると
どんな絵になりますか



6 顔の所にかがみをおくと
どんな絵になりますか (ミシロ)




氏名 池田晴海 学年 2年12月20日 2018年ふし絵描きコンテスト

1 顔の所にかがみをおくと
どんな絵になりますか A



2 星を甲心に若に90度回転すると
どんな絵になりますか B




3 星を甲心に若に180度回転すると
どんな絵になりますか A



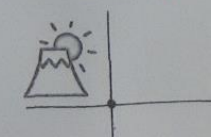
4 顔の所にかがみをおくと
どんな絵になりますか AB




5 顔の所にかがみをおくと
どんな絵になりますか AB



6 星を甲心に若に180度回転すると
どんな絵になりますか X



6 顔の所にかがみをおくと
どんな絵になりますか (ミシロ) X

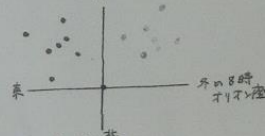


氏名 HARU 学年 2年12月18日 2018年ふし絵描きコンテスト


1 顔の所にかがみをおくと
どんな絵になりますか B




2 星を甲心に若に90度回転すると
どんな絵になりますか A



3 星を甲心に若に180度回転すると
どんな絵になりますか B




4 顔の所にかがみをおくと
どんな絵になりますか C



5 顔の所にかがみをおくと
どんな絵になりますか B



6 星を甲心に若に180度回転すると
どんな絵になりますか B



6 顔の所にかがみをおくと
どんな絵になりますか (ミシロ) A

